



# MUNICÍPIO DA ESTÂNCIA BALNEÁRIA DE PRAIA GRANDE

Estado de São Paulo  
SEDUC - Secretaria de Educação

## ATIVIDADE 04

### PONTE DO SABER



5º ano do Ensino Fundamental

## Subtração Simples

### SUBTRAÇÃO



⇒ MENOS

TERMOS DA SUBTRAÇÃO


$$\begin{array}{r|l} \text{D} & \text{U} \\ - 8 & 9 \Rightarrow \text{MINUENDO} \\ 7 & 2 \Rightarrow \text{SUBTRAENDO} \\ \hline 1 & 7 \Rightarrow \text{RESTO OU} \\ & \text{DIFERENÇA} \end{array}$$

A subtração é uma das principais operações matemáticas, está associada à ideia de **tirar**, **comparar** ou **completar** quantidades.

Atenção: não se esqueça de começar sua subtração pela **UNIDADE**.

1) Para auxiliar na renda da família Luciana está fazendo bombons para vender. Ela fez 479 bombons e já vendeu 256. Quantos ainda restam para vender?

- (A) 223 bombons.
- (B) 323 bombons.
- (C) 423 bombons.
- (D) 523 bombons.




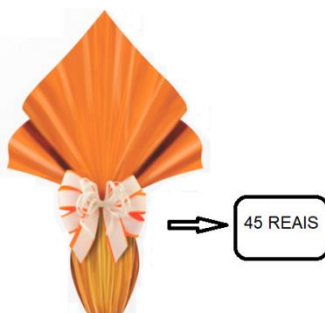
2) Laura tem 128 quilos de chocolate para produção de ovos de Páscoa. Já utilizou 15 quilos. Quantos quilos sobraram?

- (A) 143 quilos.
- (B) 133 quilos.
- (C) 123 quilos.
- (D) 113 quilos.



3) Pedro tem 98 reais e comprou os itens abaixo. Quanto que ele recebeu de troco?

- (A) 65 reais.
- (B) 55 reais.
- (C) 45 reais.
- (D) 35 reais.



## Subtração com recurso

$$\begin{array}{r} \text{D} \quad \text{U} \\ \begin{array}{r} 2 \\ \cancel{3} \end{array} 15 \text{ minuendo} \\ - \quad \begin{array}{r} 1 \quad 8 \\ \hline 1 \quad 7 \end{array} \text{ subtraendo} \\ \hline 1 \quad 7 \text{ resto ou diferença} \end{array}$$

Na matemática, quando precisamos **subtrair** um valor e não conseguimos, podemos “pedir emprestado” ao algarismo de ordem maior.

Atenção: não se esqueça de começar sua subtração pela **UNIDADE**.

- 4) Letícia recebeu uma encomenda de 276 bombons para a Páscoa e já fez 159. Quantos bombons faltam para Letícia completar sua encomenda?

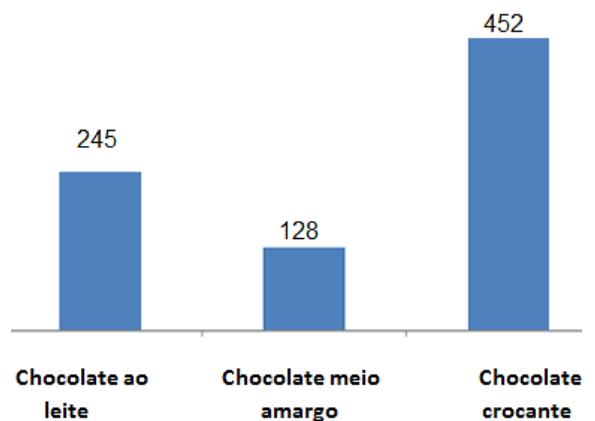
- (A) 115 bombons.  
(B) 116 bombons.  
(C) 117 bombons.  
(D) 118 bombons.



- 5) A escola Novo Horizonte realizou uma pesquisa com seus alunos quanto à preferência de chocolate. Observe o gráfico e responda.

Qual é a diferença do sabor mais votado e do menos votado?

- (A) 324  
(B) 334  
(C) 344  
(D) 354



- 6) Márcia fez uma pesquisa do preço dos ovos de Páscoa e encontrou o mesmo ovo em duas lojas com preços diferentes. Qual é a diferença de valores entre os ovos?

- (A) 13 reais.  
(B) 63 reais.  
(C) 91 reais.  
(D) 111 reais.



Bom Preço  
62 reais



Chocolícia  
49 reais